








# Amusons-nous avec les notes pointées.



## A. Les notes et les silences pointés et leurs équivalents




1. Dessine l'équivalent des notes et des silences pointés, comme dans l'exemple ci-dessous.
2. Nomme les notes ou les silences.
3. Inscris la valeur.

|   |   |   |    |   |   |   |   |   |   |   |
|---|---|---|----|---|---|---|---|---|---|---|
|  | = |  | +  |  | = |  | + |  | + |  |
| blanche pointée   |   | 1 blanche   | et | 1 noire   |   | 3 noires  |   |   |   |   |
| 1-2-3   |   | 1-2   |    | 3   |   | 1   |   | 2   |   | 3   |

|   |   |  |   |  |   |  |   |  |   |  |
|---|---|--|---|--|---|--|---|--|---|--|
|  | = |  | + |  | = |  | + |  | + |  |
| noire pointée   |   |  |   |  |   |  |   |  |   |  |
| 1 et  |   |  |   |  |   |  |   |  |   |  |


|   |   |  |   |   |   |   |  |   |
|---|---|--|---|---|---|---|--|---|
|  | = |  | + | = |  | + |  | + |
| soupir pointé   |   |  |   |   |   |   |  |   |
| 1 et  |   |  |   |   |   |   |  |   |

|  |   |   |    |   |   |  |   |  |   |
|--|---|---|----|---|---|--|---|--|---|
|  | = |  | +  |  | = |  | + |  | + |
|  |   | 1 demi-pause  | et | 1 soupir  |   |  |   |  |   |
|  |   |   |    |   |   |  |   |  |   |

|  |   |  |   |  |   |  |   |  |   |  |
|--|---|--|---|--|---|--|---|--|---|--|
|  | = |  | + |  | = |  | + |  | + |  |
|  |   |  |   |  |   | 3 croches  |   |  |   |  |
|  |   |  |   |  |   | et   |   | 1  |   | et   |

## B. Compose une mesure de 4 temps : 4 / 4





1. Dessine les notes et les silences demandés.
2. Compte la mesure et inscris les chiffres en dessous.





| 1 noire pointée, 1 croche et 1 blanche   | 1 demi-pause pointée, 1 noire | 1 noire, 1 noire pointée, 1 demi-soupir et 1 noire |
|--|-------------------------------|--|
| 1.  |                               |  |
| 2. 1   |                               |  |

| 1 blanche pointée et 1 soupir | 1 soupir pointé, 1 croche et 2 noires | 1 croche pointée, 1 demi-croche, 1 noire, 1 demi-soupir |
|-------------------------------|---------------------------------------|---|
| 1.                            |                                       |   |
| 2. 1-2-3                      |                                       |   |

## Compose une mesure de 2 temps : 2 / 4

1. Dessine des notes et des silences pour avoir 2 temps.
2. Nomme les notes et les silences.
3. Compte la mesure et inscris les chiffres en dessous.

|  |   |   |   |
|--|---|---|---|
| 1.  |  |  |  |
| 2. 1 noire pointée,  | 1 demi-pause  | 1 demi-soupir,  | 1 noire   |
| 3. 1 et  |   |   |   |

|   |  |  |  |
|---|--|--|--|
| 1.  |  |  |  |
| 2. 1 noire  | 1 demi-soupir  | 1 croche pointée   | 1 blanche  |
| 3.  |  |  |  |