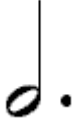

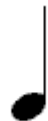

















# Corrigé - Amusons-nous avec les notes pointées.







## A. Les notes et les silences pointés et leurs équivalents







1. Dessine l'équivalent des notes et des silences pointés, comme dans l'exemple ci-dessous.
2. Nomme les notes ou les silences.
3. Inscris la valeur.

	=		+		=		+		+	
blanche pointée		1 blanche	et	1 noire		3 noires				
1-2-3		1-2		3		1		2		3

	=		+		=		+		+	
noire pointée		1 noire	et	1 croche		3 croches				
1 et		1		et		et		1		et




	=		+		=		+		+	
soupir pointé		1 soupir	et	1 demi-soupir		3 demi-soupirs				
1 et		1		et		et		1		et




	=		+		=		+		+	
demi-pause pointée		1 demi-pause	et	1 soupir		3 soupirs				
1-2-3		1-2		3		1		2		3

	=		+		=		+		+	
noire pointée		1 noire	et	1 croche		3 croches				
1 et		1		et		et		1		et

## B. Compose une mesure de 4 temps : 4 / 4




1. Dessine les notes et les silences demandés.
2. Compte la mesure et inscris les chiffres en dessous.

	1 noire pointée, 1 croche et 1 blanche	1 demi-pause pointée, 1 noire	1 noire, 1 noire pointée, 1 demi-soupir et 1 noire
1.			
2.	1 et      2      3-4	1-2-3      4	1      2 et      3      4




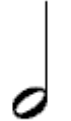
	1 blanche pointée et 1 soupir	1 soupir pointé, 1 croche et 2 noires	1 croche pointée, 1 demi-croche, 1 noire, 1 demi-pause
1.			
2.	1-2-3      4	1 et      2      3      4	1 et      et      2      3-4

## Compose une mesure de 2 temps : 2 / 4

1. Dessine des notes et des silences pour avoir 2 temps.
2. Nomme les notes et les silences.
3. Compte la mesure et inscris les chiffres en dessous.

1. 		
2. 1 noire pointée, (1 croche ou un demi-soupir)	1 demi-pause (seule)	1 demi-soupir, (1 croche) 1 noire (on ne mettrait pas un autre demi-soupir...)
3. 1 et 2	1-2	1 et 2

Les réponses varient selon les élèves :

1. 			
2. 1 noire,	1 demi-soupir	1 croche pointée 1 demi-croche ...	1 blanche (seule)
3. 1	1	1 et et	1-2