








Amusons-nous avec les notes pointées.



A. Les notes et les silences pointés et leurs équivalents




1. Dessine l'équivalent des notes et des silences pointés, comme dans l'exemple ci-dessous.
2. Nomme les notes ou les silences.
3. Inscris la valeur.

	=		+		=		+		+	
blanche pointée		1 blanche	et	1 noire		3 noires				
1-2-3		1-2		3		1		2		3

	=		+		=		+		+	
noire pointée										
1 et										


	=		+	=		+		+
soupir pointé								
1 et								

	=		+		=		+		+
		1 demi-pause	et	1 soupir					

	=		+		=		+		+	
						3 croches				
						et		1		et

B. Compose une mesure de 4 temps : 4 / 4





1. Dessine les notes et les silences demandés.
2. Compte la mesure et inscris les chiffres en dessous.





1 noire pointée, 1 croche et 1 blanche	1 demi-pause pointée, 1 noire	1 noire, 1 noire pointée, 1 demi-soupir et 1 noire
1. 		
2. 1		

1 blanche pointée et 1 soupir	1 soupir pointé, 1 croche et 2 noires	1 croche pointée, 1 demi-croche, 1 noire, 1 demi-soupir
1.		
2. 1-2-3		

Compose une mesure de 2 temps : 2 / 4

1. Dessine des notes et des silences pour avoir 2 temps.
2. Nomme les notes et les silences.
3. Compte la mesure et inscris les chiffres en dessous.

1. 			
2. 1 noire pointée,	1 demi-pause	1 demi-soupir,	1 noire
3. 1 et			

1. 			
2. 1 noire	1 demi-soupir	1 croche pointée	1 blanche
3.			